





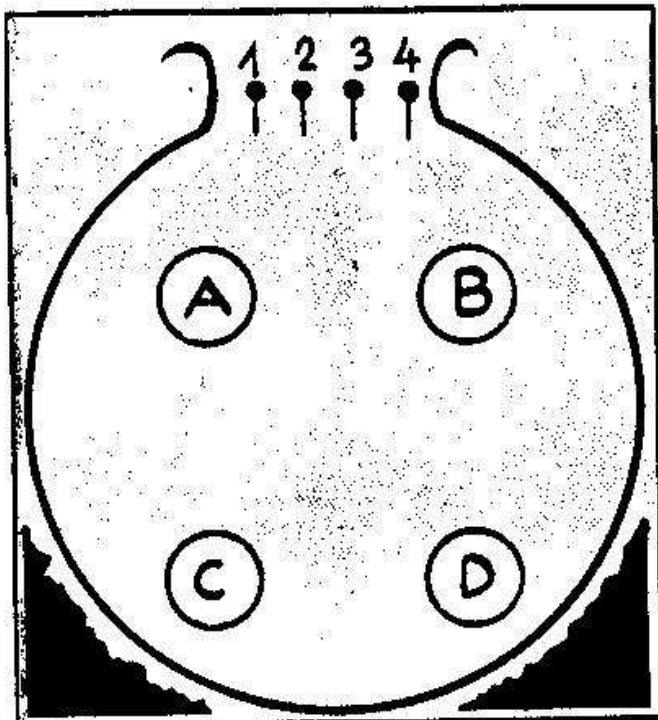
DISZNÓTORRA

Mindenkinek ilyen szép cocát kívánunk! De vajon hány kilós? Ha összeadod a számokat, kiderül.




HAZAFELE

Négy jó barát este hazafelé indul. Megállapodnak, hogy külön-külön mennek, mégpedig úgy, hogy egymás útvonalát ne keresztezzék. Az 1-es a B házban lakik, a 2-es a D-ben, a 3-as a C-ben és a 4-es az A-ban. Milyen útvonalat javasolsz?



ÖSSZEVISSZA 25!

Összevissza dobálva szerepelnek a számok ezen a négyzeten, de ha három egyenessel négy részre osztod a mezőt, mindegyik részben 25 lesz az odakerülők összege. Csak az a kérdés, hová kell a három egyenest berajzolnod. Nos, rájöttél?



VÍZ ALATTI FELVÉTEL

Mondjuk, hogy víz alatti felvételt készítesz. De ugyan miről? Ha összekötöd a számokat, akkor előjön a kép. Mit ábrázol?